






Primi problemi: che buone le crocchette!



Alessio, Luca e Marco sono tre fratellini golosi di crocchette di patate a forma di faccine. Oggi la mamma ne ha preparate tante. Alessio ne mangia 4, Luca 5 e Marco 3. Quante crocchette hanno mangiato in tutto i tre fratelli?

Che cosa domanda il problema?


.....

Quante sono le crocchette mangiate da Alessio?

Quante sono le crocchette mangiate da Luca?

Quante sono le crocchette mangiate da Marco?

Disegna tutte le crocchette



Esegui l'operazione: $4 \dots\dots 5 \dots\dots 3 = \dots\dots$

Rispondi alla domanda:

.....